

Итоговая контрольная работа по Истории России за 10 класс

Готовые материалы для тестирования Итоговая контрольная работа по Истории России за 10 класс с ответами

Вариант 1

1. Расположите события в хронологической последовательности.

- 1) создание территориальных совнархозов
- 2) начало проведения политики гласности
- 3) антибольшевистское восстание моряков Кронштадта

2. Установите соответствие между событиями и годами.

События

- А) фабрикация «ленинградского дела»
- Б) вхождение прибалтийских государств в состав СССР
- В) формирование Временного комитета Государственной думы
- Г) вступление России в Совет Европы

Годы

- 1) 1917 г.
- 2) 1929 г.
- 3) 1940 г.
- 4) 1949 г.
- 5) 1985 г.
- 6) 1996 г.

3. Ниже приведен список терминов (названий). Все они, за исключением **двух**, относятся к событиям (явлениям) периода руководства СССР Л.И. Брежнева. Найдите и укажите порядковые номера терминов (названий), выпадающих из данного ряда.

- 1) Гонка вооружений

- 2) импичмент
- 3) приватизация
- 4) косыгинская реформа
- 5) нефтедоллары
- 6) «застой»

4. Установите соответствие между событиями (процессами, явлениями) и участниками этих событий (процессов, явлений).

События (процессы, явления)

- А) XX съезд КПСС
- Б) деятельность Временного правительства
- В) создание Государственного комитета по чрезвычайному положению (ГКЧП)
- Г) командование Донским фронтом в ходе проведения операции «Кольцо»

Участники

- 1) М.И. Фрунзе
- 2) А.Ф. Керенский
- 3) Н.И. Бухарин
- 4) Г.И. Янаев
- 5) Г.М. Маленков
- 6) К.К. Рокоссовский

5. Прочитайте отрывок из воспоминаний Г.К. Жукова и выберите **три** верных суждения.

Сопоставляя и анализируя все разговоры, которые велись Сталиным в моём присутствии в кругу близких ему людей, я пришёл к твёрдому убеждению: над ним тяготела опасность войны с фашистской Германией и все его помыслы и действия были пронизаны одним желанием – избежать войны или оттянуть сроки ее начала – и уверенностью в том, что это ему удастся.

И.В. Сталин не был трусливым человеком, но он хорошо понимал, что возглавляемое им руководство страной явно опоздало с основными мероприятиями по подготовке страны к большой войне

с таким сильным и опытным врагом, как Германия. Он понимал, что мы опоздали не только с перевооружением войск новейшей боевой техникой и с реорганизацией вооруженных сил, но и с мероприятиями по обороне страны, в частности с созданием необходимых государственных резервов и мобилизационных запасов.

И.В. Сталин прекрасно знал и то, что после 1939 г. во главе частей, соединений и войсковых объединений были поставлены кадры, далеко не освоившие оперативно-тактическое и стратегическое искусство...

Опасаясь стать жертвой провокации империалистических государств, информацию У. Черчилля, Президента Чехословакии Э. Бенеша, секретаря Госдепартамента США С. Уэллеса И.В. Сталин принимал как дезинформацию, и она еще больше усилила недоверие ко всем сообщениям из-за рубежа, в том числе и к сообщениям по линии нашей военной разведки.

1) По мнению автора, И.В. Сталин считал, что руководители капиталистических стран хотят спровоцировать войну СССР с Германией.

2) По мнению автора, И.В. Сталин был уверен в том, что все командиры Красной армии очень хорошо освоили военное искусство.

3) В данном отрывке идет речь о стремлении И.В. Сталина оттянуть сроки начала Второй мировой войны.

4) По мнению автора, И.В. Сталин считал, что мероприятия по подготовке СССР к войне были проведены своевременно.

5) Выступление одного из иностранных политических деятелей, названных в отрывке, стало поводом к началу холодной войны.

6) Современником описываемых в отрывке событий был Ф.Э. Дзержинский.

6. Заполните пропуски в данных предложениях, используя приведенный ниже список пропущенных элементов.

Предложения

А) Пионер-герой, юный партизан-разведчик, Герой Советского

Союза – _____.

Б) В 1945 г. Красная армия освободила город _____.

В) Начало операции «Уран», проведенной Красной армией, относится к _____ г.

Пропущенные элементы

- 1) Минск
- 2) 1944
- 3) М. Казей
- 4) Прага
- 5) Н. Гастелло
- 6) 1942

7. Установите соответствие между деятелями культуры и их произведениями.

Деятели культуры

- А) А.И. Солженицын
- Б) И.Д. Шадр
- В) Г.В. Александров
- Г) З.К. Церетели

Произведения


- 1) кинофильм «Веселые ребята»
- 2) памятник Петру I в Москве
- 3) опера «Леди Макбет Мценского уезда»
- 4) рассказ «Матренин двор»
- 5) картина «1918 год в Петрограде»
- 6) скульптура «Бульжник – орудие пролетариата. 1905 г.»

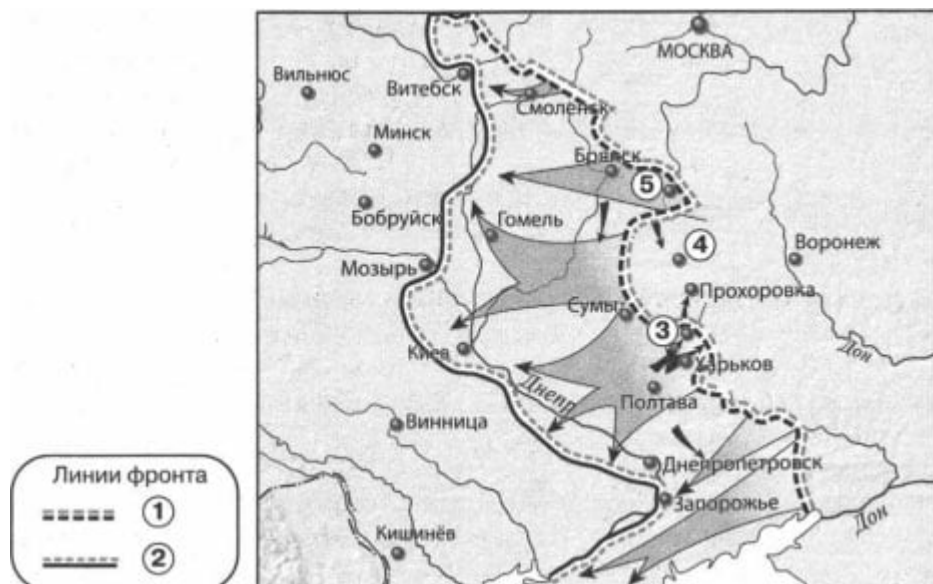


8. Укажите **два** верных суждения о данной марке.

- 1) На марке изображен портрет одного из военачальников белых.
- 2) Военные действия, изображенные на карте, помещенной на марку, произошли в Центральной России.
- 3) В один из годов, указанных на марке, прибалтийские государства вошли в состав СССР.
- 4) Марка посвящена событиям, которыми завершилась Гражданская война в европейской части России.
- 5) Государство, название которого написано на марке, просуществовало до 1985 г.

9. Какие из представленных зданий были построены после события, которому посвящена данная марка? Укажите **два** верных ответа.





10. Выберите **три** верных суждения, которые относятся к событиям, обозначенным на карте.

- 1) Город, обозначенный на карте цифрой 4, в период Великой Отечественной войны не был сдан фашистам.
- 2) Наступление немецких войск от линии фронта, обозначенной на карте цифрой 1, началось в июле.
- 3) Линия фронта, обозначенная на карте цифрой 2, образовалась в сентябре.
- 4) Участником событий, обозначенных на карте стрелками, был И.С. Конев.
- 5) В ходе наступления, обозначенного на карте, Красная армия освободила город Сумы.
- 6) В ходе наступления, обозначенного на карте, Красная армия освободила город Бобруйск.

11. Заполните пропуск в предложении: «События, обозначенные на карте стрелками, произошли в тысяча девятьсот _____ г.»

12. Укажите название города, обозначенного на карте цифрой 3.

13. Укажите название операции Красной армии, осуществленной в направлении города, обозначенного на карте цифрой 5, в период, к которому относится данная карта.

14. Запишите пропущенный термин.

Восстановление в правах, восстановление утраченного доброго имени, отмена необоснованного обвинения невиновного лица либо группы лиц.

15. Прочитайте отрывок из сообщения в газете и укажите фамилию, пропущенную в тексте.

15 октября с.г. под председательством Председателя Президиума Верховного Совета СССР тов. А.И. Микояна состоялось заседание Президиума Верховного Совета СССР.

Президиум Верховного Совета СССР рассмотрел вопрос о Председателе Совета Министров СССР. Президиум Верховного Совета СССР удовлетворил просьбу тов. _____ об освобождении его от обязанностей Председателя Совета Министров СССР в связи с преклонным возрастом и ухудшением состояния здоровья.

Председателем Совета Министров СССР Президиум Верховного Совета СССР назначил тов. Косыгина Алексея Николаевича, освободив его от обязанностей первого заместителя Председателя Совета Министров СССР.

Вариант 2

1. Расположите события в хронологической последовательности.

- А) прорыв линии Маннергейма
- Б) Брусиловский прорыв
- В) ввод советских войск в Афганистан

2. Установите соответствие между событиями и годами.

События

- А) начало массового освоения целинных земель
- Б) смерть Л.И. Брежнева
- В) принятие первой Конституции СССР
- Г) XIX конференция КПСС

Годы

- 1) 1917 г.
- 2) 1924 г.
- 3) 1954 г.
- 4) 1982 г.
- 5) 1985 г.
- 6) 1988 г.

3. Ниже приведен список терминов (названий). Все они, за исключением **двух**, относятся к событиям (явлениям) 1930-х гг. Найдите и укажите порядковые номера терминов (названий), выпадающих из данного ряда.

- 1) Враг народа
- 2) стахановцы
- 3) коллективизация
- 4) «новое политическое мышление»
- 5) диссидентское движение
- 6) система коллективной безопасности в Европе

4. Установите соответствие между событиями (процессами, явлениями) и участниками этих событий (процессов, явлений).

События (процессы, явления)

- А) Совещание по безопасности и сотрудничеству в Европе (СБСЕ) в Хельсинки
- Б) ваучерная приватизация
- В) II Всероссийский съезд Советов рабочих и солдатских депутатов
- Г) подписание акта о безоговорочной капитуляции Германии

Участники

- 1) Г.К. Жуков
- 2) Л.И. Брежнев
- 3) А.В. Колчак
- 4) Л.Д. Троцкий
- 5) П.Н. Милюков
- 6) Е.Т. Гайдар

5. Прочитайте отрывок из воспоминаний М.Ф. Шатрова и выберите **три** верных суждения.

Мне посчастливилось трижды встречаться с _____, мы много говорили, вернее, я слушал, говорил он. И у него, и у меня были неприятности за эти встречи и разговоры. Из всего того, о чем мы говорили, я выбрал три темы, три моих вопроса и соответственно его ответы.

– Первый... Что толкнуло Вас на XX съезд, на путь реформ, что побудило поднять руку на Сталина?

– Это, товарищ Шатров, я Вам так скажу, не личная обида, нет! Ко мне Сталин относился лучше, чем к другим...

Мог ли я продолжать то, что было раньше, т.е. сталинскую линию? После некоторой косметики, после некоторых маленьких реформ совершенно спокойно мог продолжать. На мой век и даже больше инерции бы хватило.

Потому что я не из 30-х годов, я из другого десятилетия. Знаете, как я стал коммунистом? Погнали нас, молодых солдат, молодых красноармейцев, на собрание, какой-то товарищ из центра будет выступать, погнали в театр. Вышел маленький, меньше меня, рыжий, в кожаной куртке и как начал говорить, так у меня прямо пелена с глаз слетела. Вот с этого времени я считаю себя коммунистом. Это выступал Николай Иванович Бухарин.

...Поздно я наверху оказался. Силы уже были не те. Если бы мне... когда они заговор устроили, лет на десять было бы меньше, я бы этим «партийным друзьям» так просто не дался...

- 1) Беседа, описываемая в отрывке, состоялась во второй половине 1950-х гг.
- 2) Современником беседы, описываемой в отрывке, был А.Н. Косыгин.
- 3) Собеседником М.Ф. Шатрова в данном отрывке был Н.С. Хрущев.
- 4) Собеседник М.Ф. Шатрова считает, что на его политические взгляды оказал сильное воздействие Н.И. Бухарин.
- 5) Собеседник М.Ф. Шатрова одобряет «сталинскую линию» и считает, что ее нужно было продолжать.
- 6) Собеседник М.Ф. Шатрова признался в том, что был лично

обижен на И.В. Сталина.

6. Заполните пропуски в данных предложениях, используя приведенный ниже список пропущенных элементов.

Предложения

А) Летчик, совершивший ночной воздушный таран в небе над Москвой в 1941 г., – _____.

Б) В период Великой Отечественной войны фашистам не удалось взять город _____.

В) Второй фронт во Франции был открыт союзниками СССР в _____ г.

Пропущенные элементы

- 1) 1944
- 2) В.В. Талалихин
- 3) Калинин
- 4) В.И. Чуйков
- 5) Тулу
- 6) 1943

7. Установите соответствие между деятелями культуры и их произведениями.

Деятели культуры

- А) Д.Д. Шостакович
- Б) В.В. Маяковский
- В) Б.М. Кустодиев
- Г) С.М. Эйзенштейн

Произведения

- 1) Седьмая (Ленинградская) симфония
- 2) здание дома культуры им. И.В. Русакова в Москве
- 3) кинофильм «Александр Невский»
- 4) мемориальный комплекс на Поклонной горе в Москве
- 5) картина «Большевик»

б) стихотворение «Левый марш»

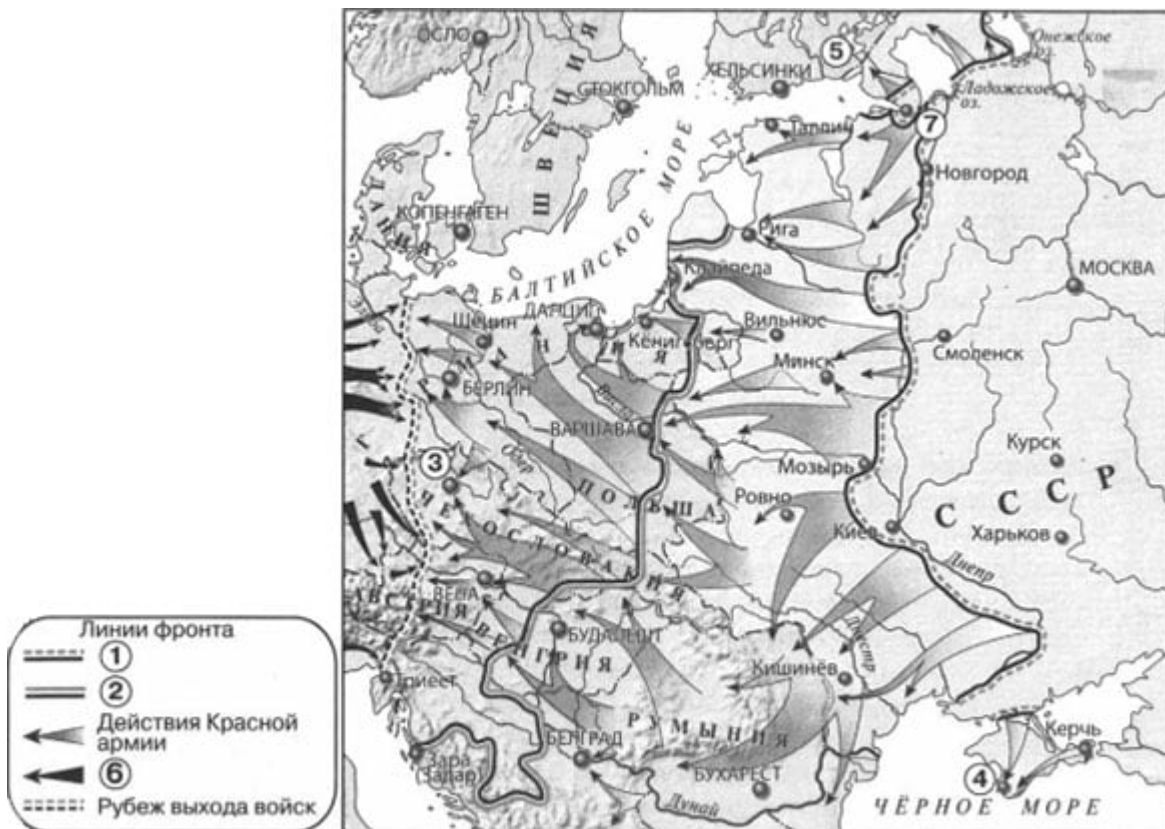


8. Укажите **два** верных суждения о данной марке.

- 1) В ходе события, которому посвящена марка, Николай II отрекся от престола.
- 2) Годовщина, которой посвящена марка, отмечалась в год смерти одного из изображенных на ней политических деятелей.
- 3) Политические деятели, которым посвящена марка, в период изображенных событий принадлежали к разным политическим партиям.
- 4) Один из политических деятелей, изображенных на марке, был первым председателем Совета народных комиссаров.
- 5) Действие картины, изображенной на марке, происходит в Москве.

9. Какие из представленных зданий были построены после события, которому посвящена данная марка? Укажите **два** верных ответа.





10. Выберите **три** верных суждения, которые относятся к событиям, обозначенным на карте.

- 1) Линия фронта, обозначенная в легенде карты цифрой 2, образовалась к июню.
- 2) Стрелками, обозначенными в легенде карты цифрой 6, показаны действия союзников СССР.
- 3) Операция Красной армии по освобождению города, обозначенного на карте цифрой 3, завершилась после капитуляции Берлина.
- 4) Город, обозначенный на карте цифрой 4, был освобожден от фашистов зимой.
- 5) В ходе наступления, обозначенного на карте, Красная армия освободила город Будапешт.
- 6) Красная армия освободила от фашистов всю территорию Австрии.

11. Укажите год, к началу которого образовалась линия фронта, обозначенная в легенде карты цифрой 1.

12. Укажите название города, обозначенного на карте цифрой 7,

в период, к которому относятся обозначенные на карте события.

13. Укажите название государства, территория которого обозначена на карте цифрой 5.

14. Запишите термин, о котором идет речь.

Организации беднейших крестьян, созданные в 1918 г. с целью распределения помещичьих земель и инвентаря, проведения продразверстки и набора в Красную армию. Распущены в конце 1918 – начале 1919 г.

15. Прочитайте отрывок из статьи в газете и укажите фамилию писателя, дважды пропущенную в тексте.

В 1967 г., когда он опубликовал открытое письмо, в котором призвал покончить с цензурой, началась травля писателя. В 1970 г. _____ вручают Нобелевскую премию. Власти отреагировали соответственно: в 1971 г. конфискованы все рукописи, уничтожаются все его издания. А в 1974 г. его лишают советского гражданства. Вместе с семьей _____ переезжает в Женеву, а затем в США, в Вермонт. Там «вермонтский затворник» завершает «Архипелаг ГУЛАГ», пишет романы о русской революции.

Ответы на итоговую контрольную работу по Истории России 10 класс

Вариант 1

1-312

2. А4 Б3 В1 Г6

3-23

4. А5 Б2 В4 Г6

5-135

6. А3 Б4 В6

7. А4 Б6 В1 Г2

8-34

9-24

10-245

11. Сорок третьем

12. Белгород
13. Кутузов
14. Реабилитация
15. Хрущев

Вариант 2

- 1-БАВ
2. А3 Б4 В2 Г6
- 3-45
4. А2 Б6 В4 Г1
- 5-234
6. А2 Б5 В1
7. А1 Б6 В5 Г3
- 8-24
- 9-14
- 10-235
11. 1944
12. Ленинград
13. Финляндия
14. Комбеды
15. Солженицын

[Версия формата PDF](#)

[Итоговая контрольная работа по Истории России для 10 класса \(372 Кб\)](#)