

Тест по географии Географическое положение России за 8 класс

Готовые материалы для тестирования Тест по географии
Географическое положение России за 8 класс с ответами

Вариант 1

1. Площадь территории России равна примерно

- 1) 14 млн км²
- 2) 17 млн км²
- 3) 19 млн км²
- 4) 27 млн км²

2. Какое из следующих утверждений о географическом положении России верно?

- 1) Территория России расположена в двух частях света.
- 2) Территория России омывается водами четырёх океанов.
- 3) Крайняя западная точка России имеет западную долготу.
- 4) Крайняя южная точка России находится на границе с Китаем.

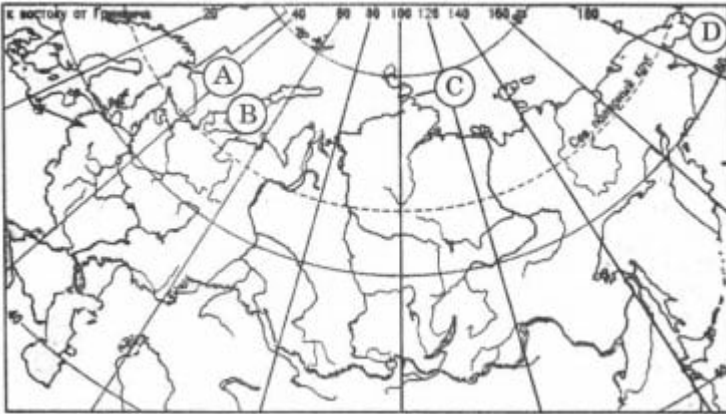
3. С какой из перечисленных стран Россия имеет сухопутную границу?

- 1) Болгария
- 2) Узбекистан
- 3) Норвегия
- 4) Япония

4. С какой из перечисленных стран Россия не имеет сухопутной границы?

- 1) Финляндия
- 2) Швеция
- 3) Азербайджан
- 4) Казахстан

5. Какой буквой на карте России обозначен мыс Челюскин?



- 1) A
- 2) B
- 3) C
- 4) D

Прочитайте выдержки из текста статьи 1 Закона РФ «О континентальном шельфе Российской Федерации» и выполните задания 6 и 7.

«Континентальный шельф Российской Федерации (далее – континентальный шельф) включает в себя морское дно и недра подводных районов, находящиеся за пределами территориального моря Российской Федерации (далее – территориальное море) на всём протяжении естественного продолжения её сухопутной территории до внешней границы подводной окраины материка.

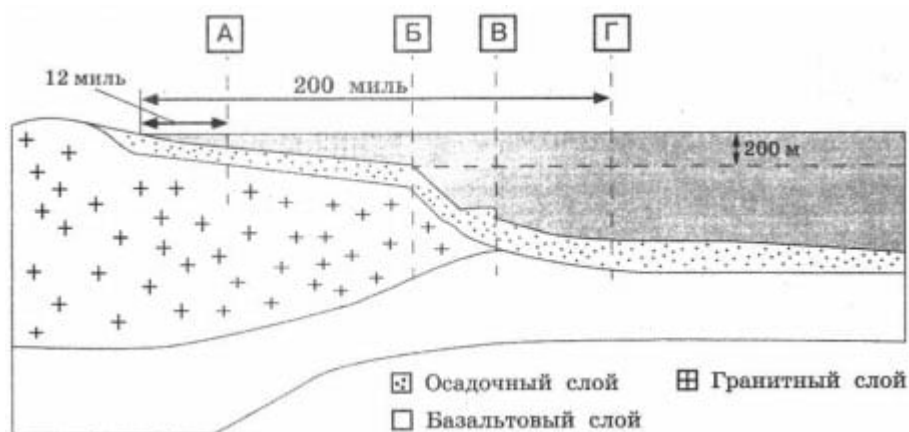
Подводной окраиной материка является продолжение континентального массива Российской Федерации, включающего в себя поверхность и недра континентального шельфа, склона и подъёма.

Внутренней границей континентального шельфа является внешняя граница территориального моря.

Внешняя граница континентального шельфа находится на расстоянии 200 морских миль от исходных линий, от которых отмеряется ширина территориального моря, при условии, что внешняя граница подводной окраины материка не простирается на расстояние более чем 200 морских миль.

Если подводная окраина материка простирается на расстояние более 200 морских миль от указанных исходных линий, внешняя граница континентального шельфа совпадает с внешней границей подводной окраины материка, определяемой в соответствии с нормами международного права.»

6. Какой буквой на рисунке обозначена внешняя граница подводной окраины материка?



- 1) А
- 2) Б
- 3) В
- 4) Г

7. Какой буквой на рисунке обозначена внешняя граница континентального шельфа Российской Федерации?

- 1) А
- 2) Б
- 3) В
- 4) Г

Вариант 2

1. Какое место в мире занимает Россия по площади территории?

- 1) 1
- 2) 2
- 3) 3
- 4) 4

2. Какое из следующих утверждений о географическом положении России верно?

- 1) Территория России расположена на двух материках.
- 2) Территория России омывается водами трёх океанов.
- 3) Крайняя восточная точка России имеет восточную долготу.
- 4) Крайняя западная точка России находится на границе с Финляндией.

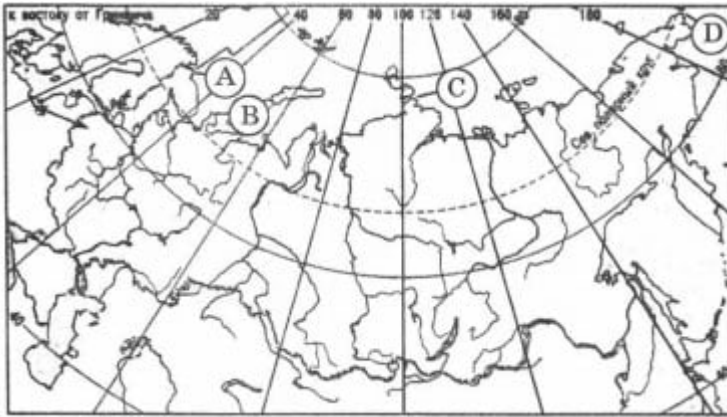
3. С какой из перечисленных стран Россия имеет сухопутную границу?

- 1) Армения
- 2) Узбекистан
- 3) Польша
- 4) Афганистан

4. С какой из перечисленных стран Россия не имеет сухопутной границы?

- 1) Норвегия
- 2) Туркмения
- 3) Финляндия
- 4) Узбекистан

5. Какой буквой на карте России обозначен мыс Дежнёва?



- 1) A
- 2) B
- 3) C
- 4) D

Прочитайте выдержки из текста статьи 1 Закона РФ «О континентальном шельфе Российской Федерации» и выполните задания 6 и 7.

«Континентальный шельф Российской Федерации (далее – континентальный шельф) включает в себя морское дно и недра подводных районов, находящиеся за пределами территориального моря Российской Федерации (далее – территориальное море) на всём протяжении естественного продолжения её сухопутной территории до внешней границы подводной окраины материка.

Подводной окраиной материка является продолжение континентального массива Российской Федерации, включающего в себя поверхность и недра континентального шельфа, склона и подъёма.

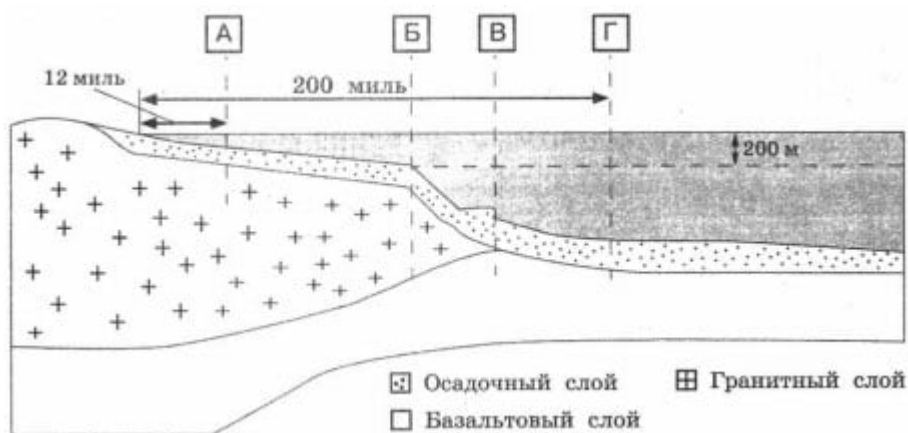
Внутренней границей континентального шельфа является внешняя граница территориального моря.

Внешняя граница континентального шельфа находится на расстоянии 200 морских миль от исходных линий, от которых отмеряется ширина территориального моря, при условии, что внешняя граница подводной окраины материка не простирается на расстояние более чем 200 морских миль.

Если подводная окраина материка простирается на расстояние бо-

лее 200 морских миль от указанных исходных линий, внешняя граница континентального шельфа совпадает с внешней границей подводной окраины материка, определяемой в соответствии с нормами международного права.»

6. Какой буквой на рисунке обозначена внутренняя граница континентального шельфа Российской Федерации?



- 1) А
- 2) Б
- 3) В
- 4) Г

7. Буквой В на рисунке обозначена

- 1) граница территориального моря России
- 2) внешняя граница континентального шельфа – граница Российской Федерации
- 3) граница подводной окраины материка Евразия
- 4) внутренняя граница континентального шельфа -граница Российской Федерации

Вариант 3

1. Протяжённость территории России с запада на восток составляет около

- 1) 2000 км
- 2) 5000 км

- 3) 10 000 км
- 4) 20 000 км

2. Какое из следующих утверждений о географическом положении России верно?

- 1) Территория России расположена в трёх частях света.
- 2) Территория России омывается водами трёх океанов.
- 3) Крайняя восточная точка России находится в западном полушарии.
- 4) Крайняя западная точка России находится на границе с Финляндией.


3. С какой из перечисленных стран Россия имеет сухопутную границу?

- 1) Армения
- 2) Азербайджан
- 3) Молдавия
- 4) Таджикистан

4. С какой из перечисленных стран Россия не имеет сухопутной границы?

- 1) Белоруссия
- 2) Узбекистан
- 3) Норвегия
- 4) Монголия

5. Какой буквой на карте европейской части России обозначена Балтийская коса?



- 1) А
- 2) Б
- 3) В
- 4) Г

Прочитайте выдержки из текста статьи 1 Закона РФ «О континентальном шельфе Российской Федерации» и выполните задания 6 и 7.

«Континентальный шельф Российской Федерации (далее – континентальный шельф) включает в себя морское дно и недра подводных районов, находящиеся за пределами территориального моря Российской Федерации (далее – территориальное море) на всём протяжении естественного продолжения её сухопутной территории до внешней границы подводной окраины материка.

Подводной окраиной материка является продолжение континентального массива Российской Федерации, включающего в себя поверхность и недра континентального шельфа, склона и подъёма.

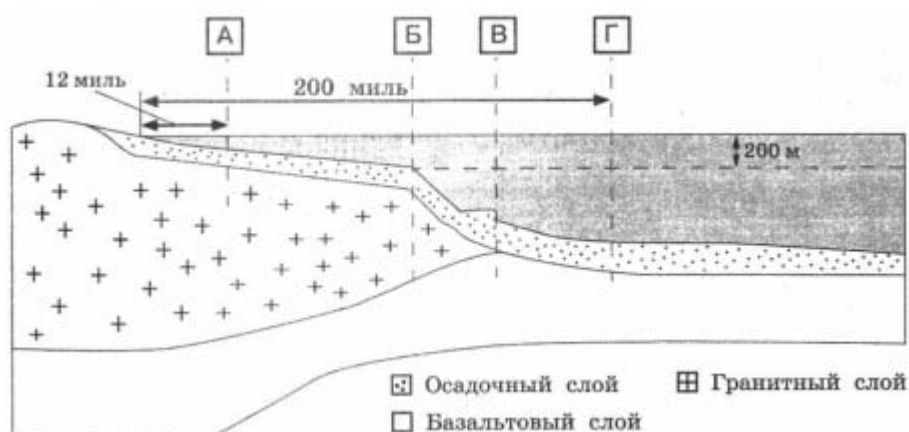
Внутренней границей континентального шельфа является внешняя граница территориального моря.

Внешняя граница континентального шельфа находится на расстоянии 200 морских миль от исходных линий, от которых отмеряется ширина территориального моря, при условии, что внешняя граница подводной окраины материка не простирается на расстояние более чем 200 морских миль.

Если подводная окраина материка простирается на расстояние бо-

лее 200 морских миль от указанных исходных линий, внешняя граница континентального шельфа совпадает с внешней границей подводной окраины материка, определяемой в соответствии с нормами международного права.»

6. Какой буквой на рисунке обозначена внешняя граница континентального шельфа Российской Федерации?



- 1) А
- 2) Б
- 3) В
- 4) Г

7. Буквой Б на рисунке обозначена

- 1) граница территориального моря России
- 2) внешняя граница континентального шельфа – граница Российской Федерации
- 3) граница континентального шельфа материка Евразия
- 4) внутренняя граница континентального шельфа – граница Российской Федерации

Вариант 4

1. Какая часть мировой суши приходится на долю России?

- 1) 1/3
- 2) 1/4
- 3) 1/8

4) 1/20

2. Какое из следующих утверждений о географическом положении России верно?

- 1) Территория России расположена на двух материках.
- 2) Территория России омывается водами трёх океанов.
- 3) Крайняя восточная точка России имеет восточную долготу.
- 4) Крайняя западная точка России находится на границе с Польшей.

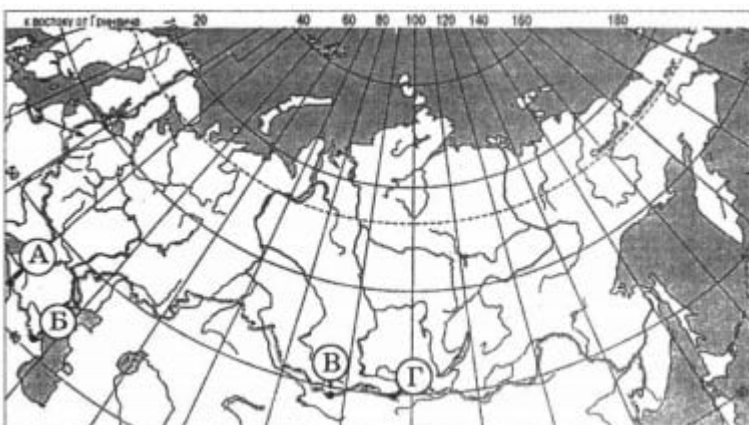
3. С какой из перечисленных стран Россия имеет сухопутную границу?

- 1) Армения
- 2) Узбекистан
- 3) Польша
- 4) Афганистан

4. С какой из перечисленных стран Россия не имеет сухопутной границы?

- 1) Норвегия
- 2) Туркменистан
- 3) Грузия
- 4) Монголия

5. Какой буквой на карте России обозначена гора Базардюзю?



1) А

- 2) Б
- 3) В
- 4) Г

Прочитайте текст «Территориальное море и исключительная экономическая зона Российской Федерации» и выполните задания 6 и 7.

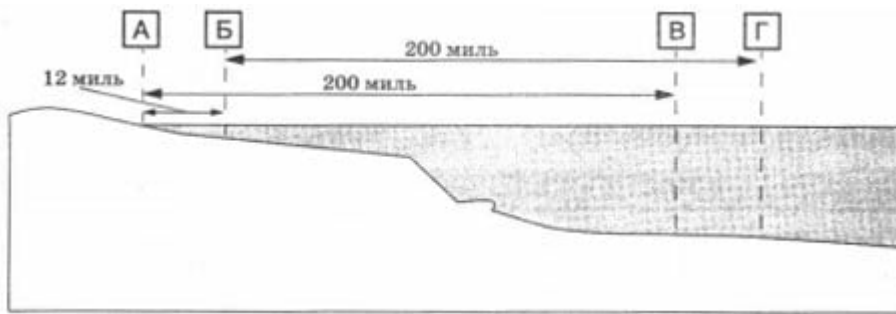
«В соответствии с законами России, территориальным морем Российской Федерации является примыкающий к сухопутной территории морской пояс шириной 12 морских миль. Внешняя граница территориального моря является Государственной границей Российской Федерации.

На территориальное море, воздушное пространство над ним, а также на дно территориального моря и его недра распространяется суверенитет Российской Федерации с признанием права мирного прохода иностранных судов через территориальное море.

За границей территориального моря находится исключительная экономическая зона России. Её внутренней границей является внешняя граница территориального моря, а внешняя граница исключительной экономической зоны находится на расстоянии 200 морских миль от линий, от которых отмеряется ширина территориального моря.

Морские и воздушные суда иностранных государств могут свободно передвигаться в пределах исключительной экономической зоны, однако любая хозяйственная деятельность, включая прокладку линий связи, трубопроводов и даже проведение морских научных исследований здесь возможна только с разрешения России.»

6. Какой буквой на рисунке обозначена внутренняя граница исключительной экономической зоны Российской Федерации?



- 1) А
- 2) Б
- 3) В
- 4) Г

7. Какой буквой на рисунке обозначена внешняя граница исключительной экономической зоны Российской Федерации?

- 1) А
- 2) Б
- 3) В
- 4) Г

Тест по географии Географическое положение России 8 класс

Вариант 1

- 1-2
- 2-1
- 3-3
- 4-3
- 5-3
- 6-2
- 7-4

Вариант 2

- 1-1
- 2-2
- 3-3
- 4-4
- 5-4
- 6-1
- 7-3

Вариант 3

1-3

2-3

3-3

4-2

5-1

6-4

7-3

Вариант 4

1-3

2-4

3-3

4-2

5-1

6-3

7-4