

Входной контроль по географии за 8 класс

Готовые материалы для тестирования Входной контроль по географии за 8 класс с ответами

Вариант 1

1. В какой природной зоне распространены подзолистые почвы?

- 1) саванна
- 2) пустыня
- 3) тайга
- 4) тундра

2. Установите соответствие между природными районами мира и характерными для них современными экологическими проблемами.

Природные районы

- А) Северная Африка
- Б) Амазонская низменность
- В) Гренландия

Экологические проблемы

- 1) сведение экваториальных лесов
- 2) таяние ледников
- 3) опустынивание
- 4) радиационное загрязнение

3. Какие из перечисленных рек Евразии не замерзают?

- 1) Енисей
- 2) Волга
- 3) Ганг
- 4) Темза
- 5) Печора

6) Сена

4. Расположите перечисленные материки (континенты) в порядке увеличения площади их территории.

- 1) Евразия
- 2) Северная Америка
- 3) Африка

5. Для какого типа умеренного климата характерны очень низкие температуры зимы?

6. Верны ли следующие утверждения о рельефе Евразии?

А. На материке находятся самая низкая и самая высокая точки суши Земли.

Б. Альпы и Гималаи имеют преимущественное простирание с севера на юг.

- 1) верно только А
- 2) верно только Б
- 3) оба верны
- 4) оба неверны

«Природные условия страны малоблагоприятны для земледелия, но зато здесь развита промышленность, а хозяйственные занятия населения во многом связаны с морем и природными богатствами. Многие жители страны – опытные мореходы, на кораблях они бороздят различные моря и океаны, перевозят грузы, ловят рыбу. Страна – родина известных всему миру исследователей полярных областей мира, а также смелого учёного-мореплавателя XX в. Тура Хейердала».

7. О какой стране идёт речь в тексте? Напишите название страны и её столицы.

8. Напишите имена **двух** исследователей полярных областей, родившихся в стране, которой посвящён текст.

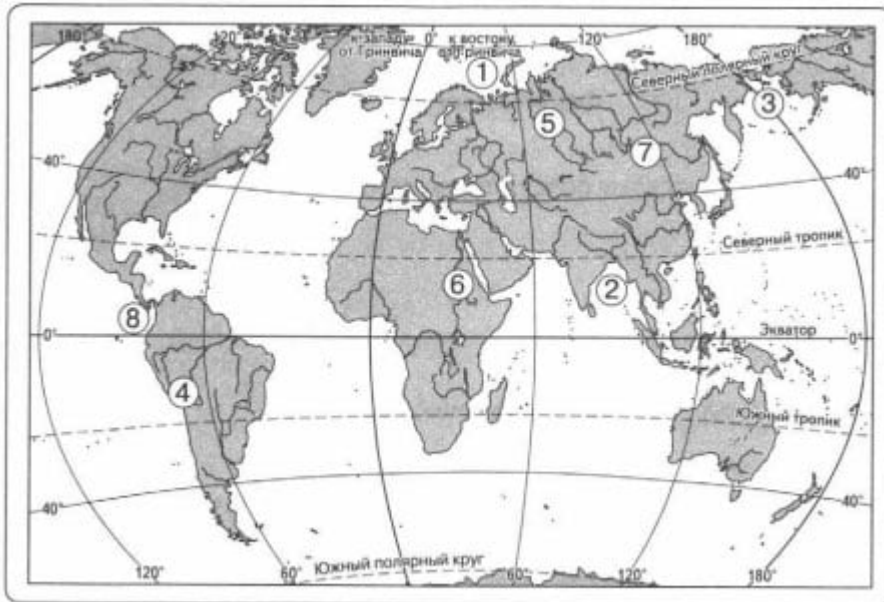


Рис. 1

9. Какие географические объекты обозначены на карте (рис. 1) цифрами: 1) море; 2) залив; 3) пролив; 4) горы; 5) равнина; 6) река; 7) озеро; 8) канал?

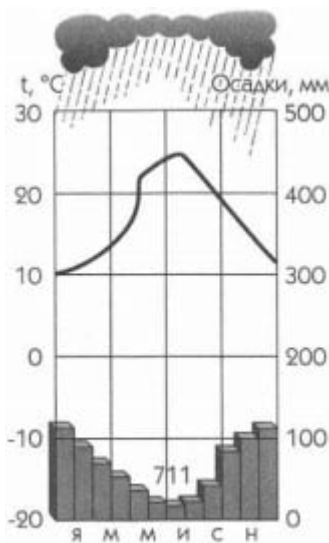


Рис. 2

10. Определите по климатограмме годовую амплитуду колебания температур. Ответ запишите цифрами.

11. К какому климатическому поясу относится климатограмма?

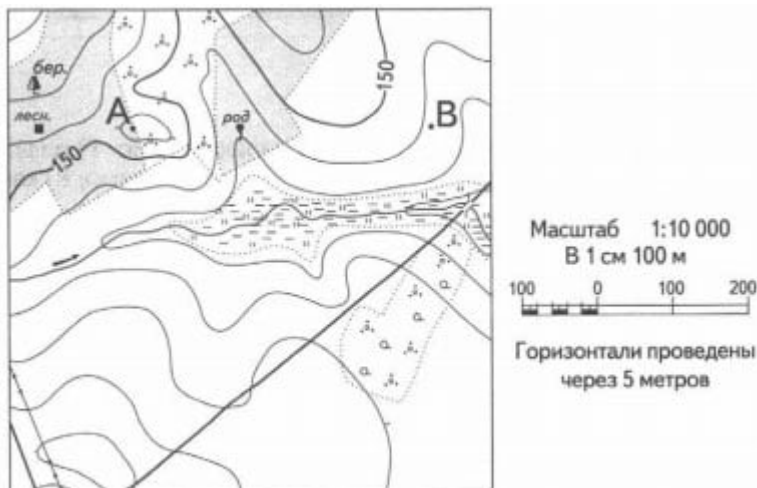


Рис. 3

12. Определите по карте расстояние на местности по прямой от точки А до точки В. Полученный результат округлите до десятков метров. Ответ запишите цифрами.

13. Определите по карте азимут направления от родника к мосту. Ответ запишите цифрами.

14. Укажите не менее **двух** причин (факторов), от которых зависит солёность морской воды.

Вариант 2

1. Какое озеро самое глубокое на Земле?

- 1) Танганьика
- 2) Байкал
- 3) Ньяса
- 4) Виктория

2. Установите соответствие между природными зонами и климатическими поясами, в которых они расположены.

Природные зоны

- А) смешанные и широколиственные леса
- Б) жестколистные леса и кустарники
- В) тундра

Климатические пояса

- 1) экваториальный
- 2) субтропический
- 3) умеренный
- 4) субарктический

3. Какие из перечисленных природных ресурсов относятся к группе неисчерпаемых?

- 1) морская вода
- 2) полезные ископаемые
- 3) растительность
- 4) солнечная энергия
- 5) морские приливы
- 6) почвы

4. Расположите перечисленные государства мира в порядке увеличения численности их населения.

- 1) Россия
- 2) Китай
- 3) Индия

5. С каким океаном у Северного Ледовитого океана наиболее мощный обмен водами?

6. Верны ли следующие утверждения о границах литосферных плит?

А. К границам литосферных плит приурочены сейсмические пояса.

Б. При сближении континентальных литосферных плит образуются складчатые горы.

- 1) верно только А
- 2) верно только Б
- 3) оба верны
- 4) оба неверны

«Страна расположена на севере Центральной Азии и значительно удалена от морей и океанов. На территории можно выделить

горный запад и равнинный восток. Горы этой страны – одни из самых древних на Земле. Здесь поднимаются величественные вершины, много прозрачных горных озёр. Равнины восточной части выделяются своей высотой, достигая 1200 м. Здесь расположена одна из крупнейших пустынь мира. Главная черта климата – резкая континентальность, но, несмотря на суровость климата, природные зоны на территории страны разнообразны».

7. О какой стране идёт речь в тексте? Напишите название страны и её столицы.

8. Напишите названия пустыни и гор, о которых идёт речь в тексте.

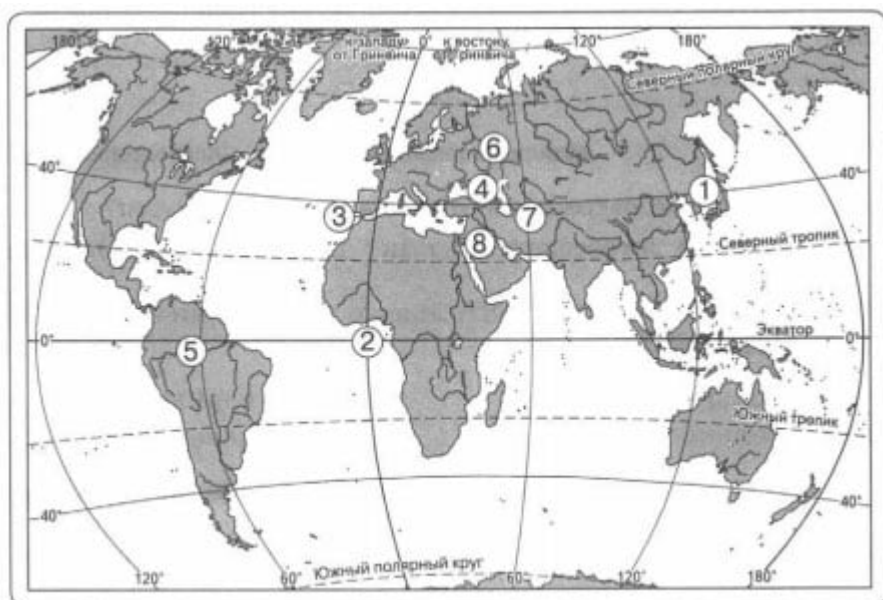


Рис. 4

9. Какие географические объекты обозначены на карте (рис. 4) цифрами: 1) море; 2) залив; 3) пролив; 4) горы; 5) равнина; 6) река; 7) озеро; 8) канал?

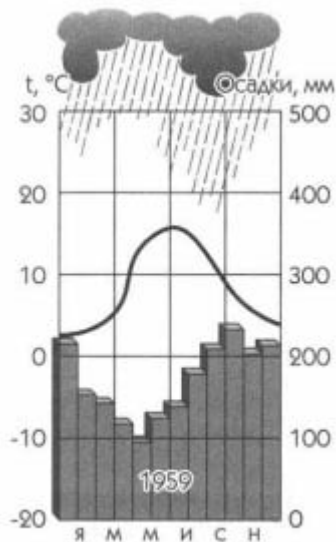
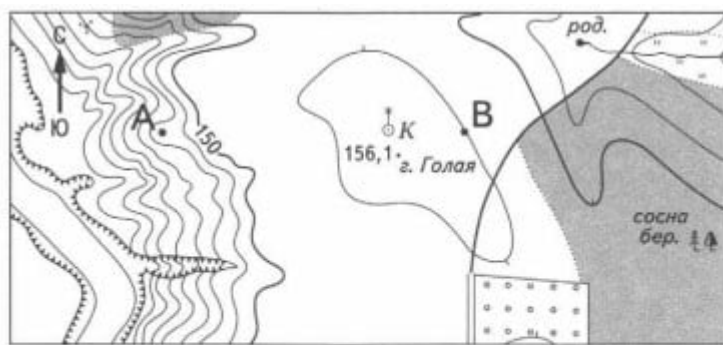


Рис. 5

10. Определите по климатограмме годовую амплитуду колебания температур. Ответ запишите цифрами.

11. К какому климатическому поясу относится климатограмма?



Масштаб 1:10 000
 В 1 см 100 м
 100 0 100 200
 Горизонтالي проведены через 5 метров

Рис. 6

12. Определите расстояние на местности по прямой от точки А до точки В. Полученный результат округлите до десятков метров. Ответ запишите цифрами.

13. Определите азимут направления от колодца к роднику. Ответ запишите цифрами.

14. Чем знаменита Камчатка и с каким районом США её можно сравнить?

Ответы на входной контроль по географии 8 класс

Вариант 1

1. 3
2. А3 Б1 В2
3. 346
4. 231
5. Резко континентальный климат
6. 1
7. Норвегия, Осло
8. Р. Амундсен, Ф. Нансен
9.
 - 1) Баренцево море;
 - 2) Бенгальский залив;
 - 3) Берингов пролив;
 - 4) Анды;
 - 5) Западно-Сибирская равнина;
 - 6) Нил;
 - 7) Байкал;
 - 8) Панамский канал.
10. 15 °С
11. Субтропический пояс Северного полушария
12. 400 ± 10 м
13. 110 ± 2°
14. Осадки, испарение, речной сток, таяние и замерзание льдов, морские течения

Вариант 2

1. 2
2. А3 Б2 В4
3. 145
4. 132
5. Атлантический океан
6. 3
7. Монголия, Улан-Батор
8. Гоби, Алтай
9.
 - 1) Японское море;
 - 2) Гвинейский залив;
 - 3) Гибралтарский пролив;

- 4) Кавказские горы;
- 5) Амазонская низменность;
- 6) Волга;
- 7) Каспийское море;
- 8) Суэцкий канал.
10. 12 ± 1 °C
11. Умеренный пояс Северного полушария
12. 400 ± 10 м
13. $65 \pm 2^\circ$
- 14.
- 1) Вулканы, гейзеры;
- 2) Йеллоустоун

[Версия формата PDF](#)

[Входной контроль по географии для 8 класса
\(364 Кб\)](#)